

# Elenco di Centesimi ed Euro

## Le Monete: i Centesimi

Segue l'elenco dei **centesimi dell'Euro**.



## Le Monete: gli Euro

Segue l'elenco degli **Euro**.



# Monete e Cambi

Impara a cambiare queste monete tra loro. Ecco come puoi **cambiare le monete da 1 euro con monete da 50 centesimi**.



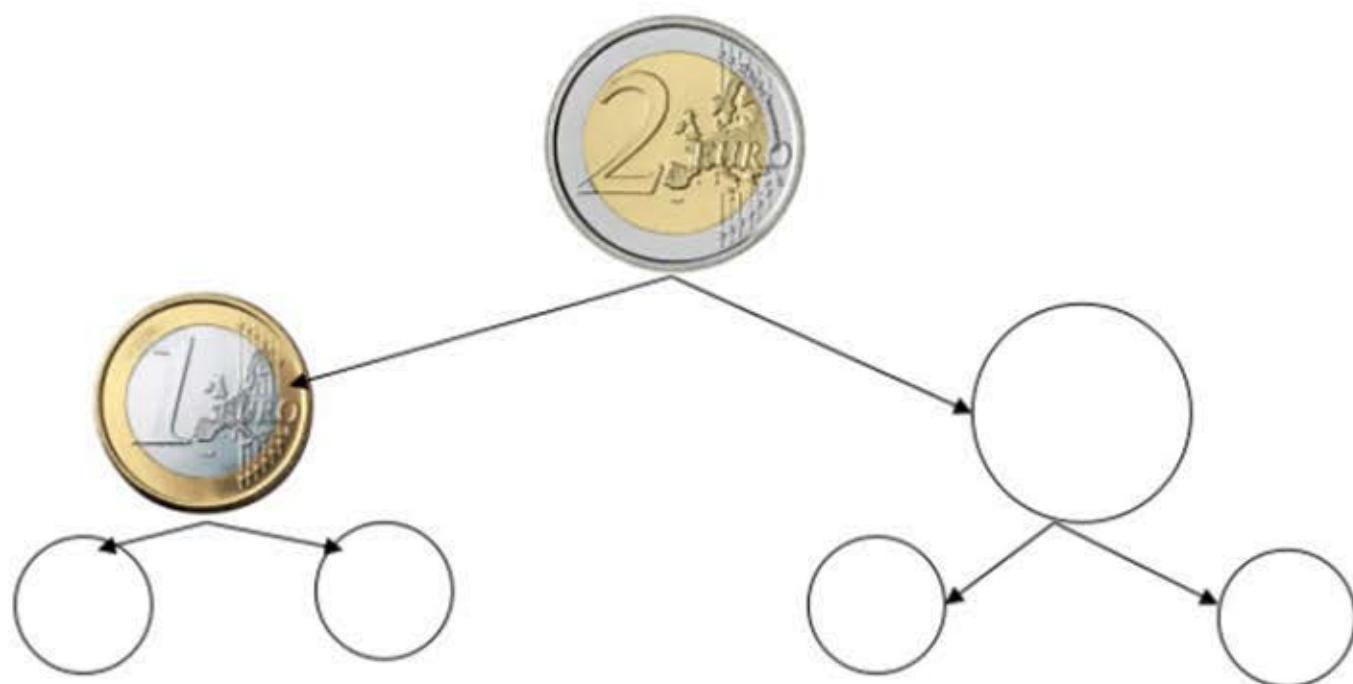
Ecco come puoi **cambiare le monete da 1 euro con monete da 10 centesimi**.



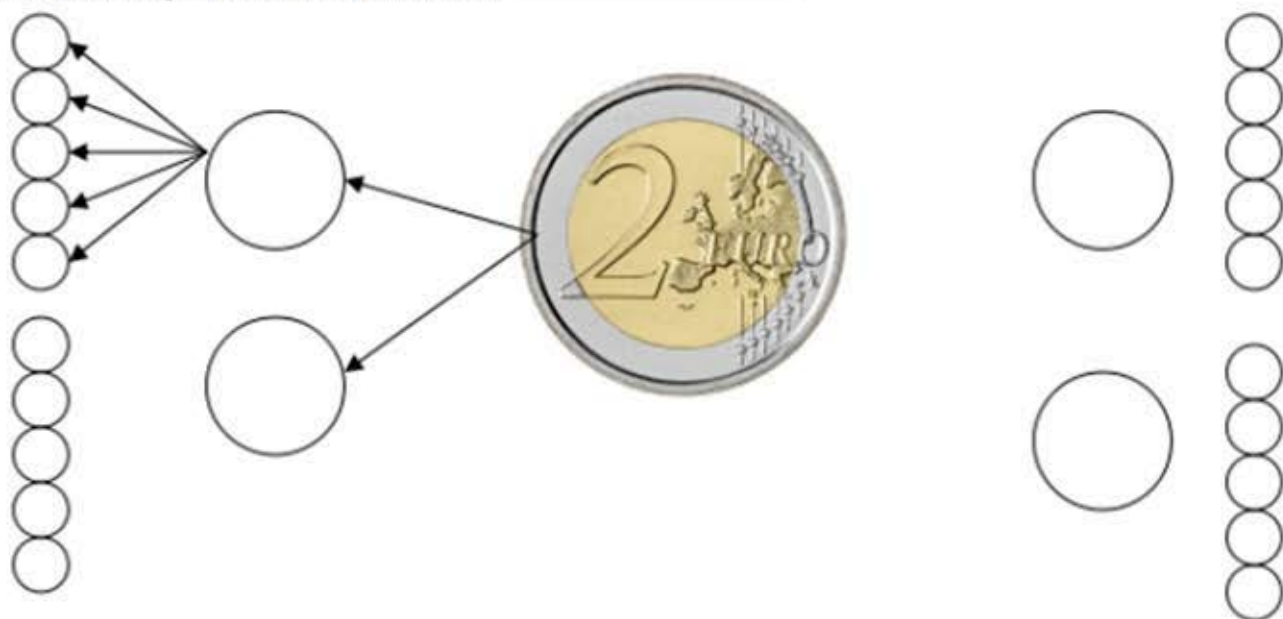
Completa e rispondi quanto segue.

- **Completa:** Posso cambiare 1 moneta da 1 euro con  oppure con
- **Rispondi:** Quanto valgono 10 monete da 10 centesimi?

Adesso cambia una moneta da 2 euro. Scrivi il valore delle monete nei cerchi vuoti:



- **Completa:** posso cambiare 1 moneta da 2 euro con  oppure con
- **Rispondi:** quanto valgono 4 monete da 50 centesimi?



- **Continua tu:** disegna le frecce. Scrivi il valore delle monete nei cerchi vuoti.
- **Completa:** posso cambiare 1 moneta da 2 euro con 4 monete da  20 monete da

Cambiamo ancora:



Cambiamo una moneta da 2 euro con monete da 20 centesimi.



- **Disegna tu:** disegna le monete da 20 centesimi necessarie a cambiare una moneta da 2 euro.
- **Rispondi:** quante monete da 20 centesimi sono necessarie per cambiare 2 euro.

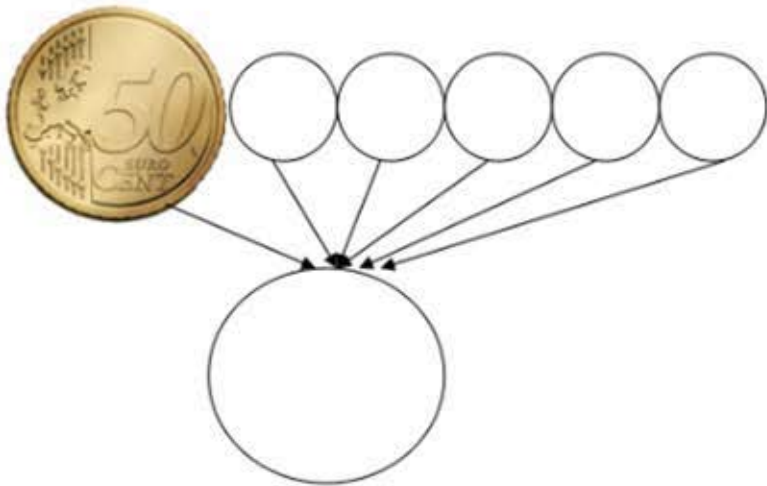
# Federico e Laura

Federico e Laura cambiano le loro monete:



Federico ha soltanto monete da:	Laura ha soltanto monete da:
1 euro	10 centesimi
2 euro	20 centesimi
-	50 centesimi

Federico chiede a Laura di cambiargli i suoi euro in centesimi. Ecco come Laura ha cambiato le monete di Federico:



• **Completa:**

- Laura ha cambiato 1 moneta da 1 euro con \_\_\_\_\_ monete da \_\_\_\_\_
- Laura ha cambiato 1 moneta da 2 euro con \_\_\_\_\_ monete da \_\_\_\_\_
- Oppure con \_\_\_\_\_ moneta da \_\_\_\_\_ e \_\_\_\_\_ monete da \_\_\_\_\_

• **Rispondi:**

- 5 monete da \_\_\_\_\_ valgono \_\_\_\_\_ euro
- 4 monete da \_\_\_\_\_ valgono \_\_\_\_\_ cent oppure \_\_\_\_\_ euro